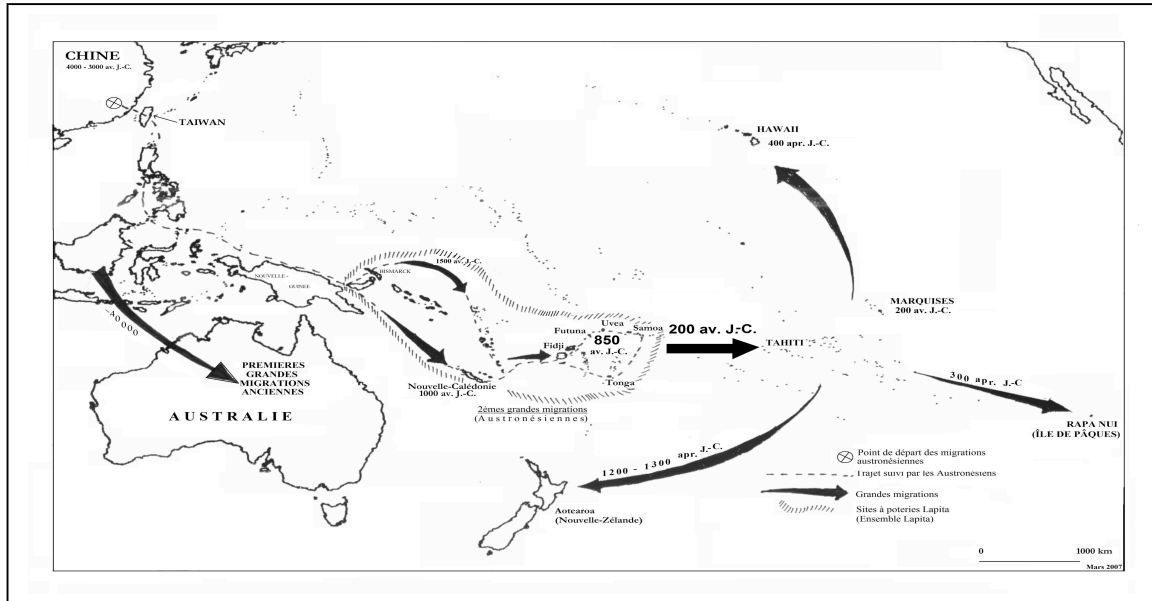


Leçon 1 : Le peuplement de l'Océanie

Problématique : Quelles sont les grandes étapes du peuplement de l'Océanie ?

- Objectifs :
- sans trop se perdre dans des détails inutiles, ce qui deviendrait trop lourd pour les 6^{es}, tendre seulement à ce que l'élève soit capable de déceler les deux grandes migrations qui amorcèrent le peuplement de l'Océanie (remarque : l'aire Micronésienne est ici exclue (non maîtrisée))
 - Connaître les dates de peuplement approximatives pour la région d'Uvea et de Futuna.

TD de préparation



Doc. 1 Les grandes étapes du peuplement du Pacifique

De façon remarquable, la progression de ce front de colonisation austronésien à travers les mers inexplorées du Pacifique sud-ouest, se fit rapidement. En moins de 400 ans, les navigateurs Lapita atteignirent le sud de la Mélanésie, en découvrant la Nouvelle-Calédonie vers 1100-1000 av. J. C., puis Fidji et la Polynésie occidentale à l'est, s'installant dans l'archipel des îles Samoa vers 850-800 av. J. C. Ainsi, les racines culturelles des habitants de l'ensemble des îles du sud de la Mélanésie et de la Polynésie occidentale ont-elles leur fondement dans le bagage apporté par les navigateurs austronésiens fabriquant des poteries Lapita.

D'après J. Monnin et Ch. Sand, *Kibo le serment gravé, Essai de synthèse sur les pétroglyphes calédoniens*, Édition Île de Lumière, Nouméa, 2004. Coll. Les Cahiers de l'Archéologie en Nouvelle-Calédonie.



Doc. 3 Exemples de poteries Lapita

Doc 2. Sur les traces des gens du Lapita

Doc. 1 : Quelles deux grandes migrations humaines ont peuplé l'Océanie ?

Pour chacune de ces grandes migrations donnez-en les dates.

D'où partent les Austronésiens ?

Quelle île d'Océanie est la dernière à être peuplée ?

Doc. 2 : Quelle population peuple les îles Fidji, Uvea, Futuna, Tonga et Samoa ? Aux environs de quel siècle ?

Doc. 2 et 3 : Que fabriquaient ces hommes ?

Migrations : déplacement important de populations

Sur la carte leur faire tracer les aires culturelles

I. Les deux grandes migrations de peuplement en Océanie

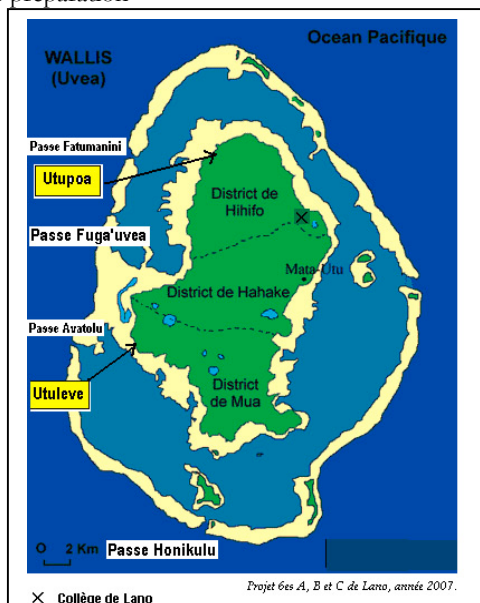
La première date de plus de 40 000 ans avec l'arrivée de populations Aborigènes (en Australie) et Papoues. La deuxième, plus récente, débute en Chine orientale pour ensuite peupler vers 1500 av. J.-C. une partie de la Mélanésie et la Polynésie occidentale. Ces hommes étaient les Austronésiens. Ils fabriquaient un type de poterie appelé : poterie Lapita.

II. Les Austronésiens peuplent Uvea et Futuna

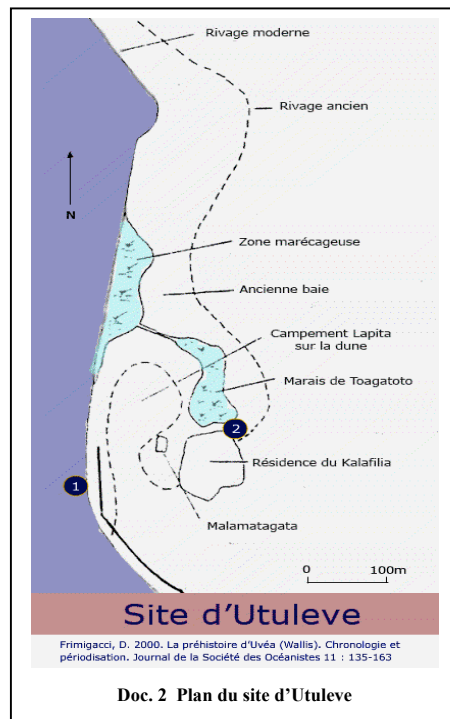
Uvea et Futuna ont été peuplées aux alentours du IX^e s av. J.-C. A Uvea les premières traces de peuplement humain ont été localisées à Utuleve (côte ouest) et sur le site d'Utupoa (nord-ouest). A Futuna, les Austronésiens débarquèrent au lieu-dit Asipani situé dans le village de Toloke dans le royaume de Sigave.

Leçon 2 : Utuleve, un site peuplé par les Austronésiens

Problématique : Pourquoi les Austronésiens se sont-ils installés à Utuleve ?
TD de préparation



Doc. 1. Carte de localisation d'Utuleve



Doc. 2 Plan du site d'Utuleve

« Les premiers arrivants, en provenance d'une autre île de la région, s'étaient installés sur ce site car il offrait tous les avantages pour la survie d'un premier village permanent. En face du rivage se trouvait, dans le récif, une passe qui permettait d'accéder rapidement à la haute mer pour les grandes pêches ainsi qu'un grand platier fournissant de nombreuses variétés de coquillages. Le lagon tout proche fournissait un approvisionnement en poisson. [...] A l'arrière du village, vers l'intérieur de l'île, la présence d'un marais dans le prolongement d'une baie aujourd'hui comblée permettait de disposer d'eau douce et, sans doute, de cultiver des tubercules ou d'autres plantes amenées sur les pirogues ». D'après Ch. Sand, *Uvée la préhistoire de Wallis, île de la Polynésie occidentale*, Editions Grain de sable, Nouvelle-Calédonie, 1998.

Doc. 3. Utuleve : Un site favorable à toute installation

Questions

Doc. 1 : Situez Utuleve sur la carte d'Uvea. Quelle passe se trouve en face d'Utuleve ?

Doc. 3 : Qu'est-ce qui conduit les Austronésiens à installer leur campement à Utuleve ?

Doc. 3 et 2 : Soulignez tous les éléments qui poussent les Austronésiens à s'installer à Utuleve. Après avoir souligné ces éléments dans ton texte place les sur le plan du doc. 2

Rédigez un petit texte où vous situez Utuleve, puis racontez pour quelles raisons les Austronésiens ont choisi Utuleve pour bâtir leur nouveau campement ?

- I. Un site favorable à l'établissement d'un village
Les **Austronésiens**, premiers habitants d'Uvée, choisissent **Utuleve** pour bâtir leur premier campement. Le site se trouvait en face de la **passe Avatolu**, ce qui leur permettait de gagner rapidement la haute mer (grandes pêches ou voyage).
- II. Un lagon, un platier et une terre regorgeant de nourritures
Sur place, les Austronésiens trouvent à manger du côté de la mer (sur le platier et dans le lagon : coquillages, poissons...) et de l'océan (poissons). Du côté de la terre, un marais leur permettait de disposer d'eau douce et d'espaces cultivables autorisant la culture du taro d'eau.